

平成30年度 児童・生徒の学力向上を^{はか}図るための調査

中学校第2学年 社会 調査票

注 意

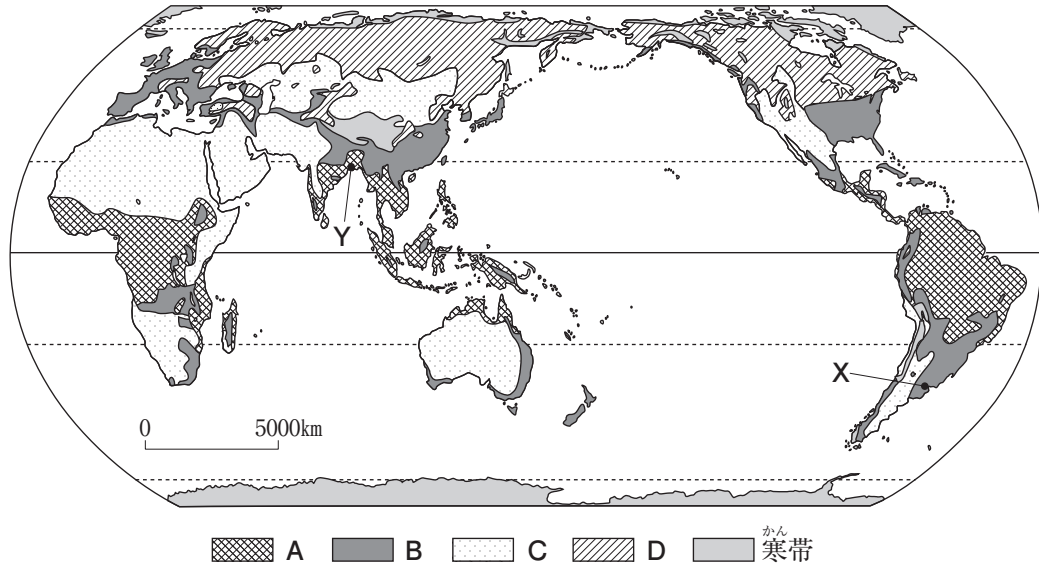
- 1 先生から「始め」の合図があるまでは、中を開けないでください。
- 2 調査票に地区番号，学校番号，組，出席番号，氏名を書いてください。
- 3 解答用紙に地区番号，学校番号，組，出席番号を書いてください。
- 4 調査の時間は，45分間です。
- 5 答えは，すべて解答用紙に記入してください。
- 6 終わったら，見直しましょう。
- 7 先生から「終わり」の合図があったら，書くのをやめてください。

地区番号	学校番号	組	出席番号	氏名

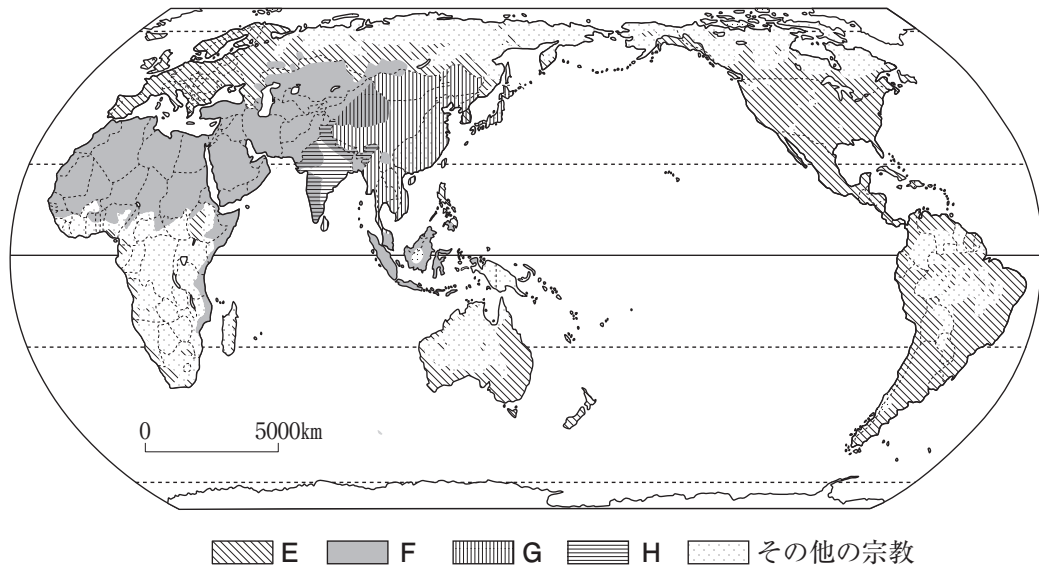
1

なおやくんは、次の【地図1】と下の【地図2】をもとに、世界の様々な地域の生活と環境^{かんきょう}について調べました。あとの(1)~(5)の各問題に答えなさい。ただし、【地図1】、【地図2】の分布の境界は、必ずしも明確に分けられるものではないため、分布のすべてを示しているものではありません。

【地図1】世界の気候帯の分布



【地図2】世界の主な宗教の分布



- (1) なおやくんは、【地図1】をもとに、それぞれの気候帯の^{とくちょう}特徴について調べました。
【地図1】のDの気候帯の特徴を表す資料として最も適切なものを、次のア～エの中から1つ選び、記号で答えなさい。


ア




イ



ウ



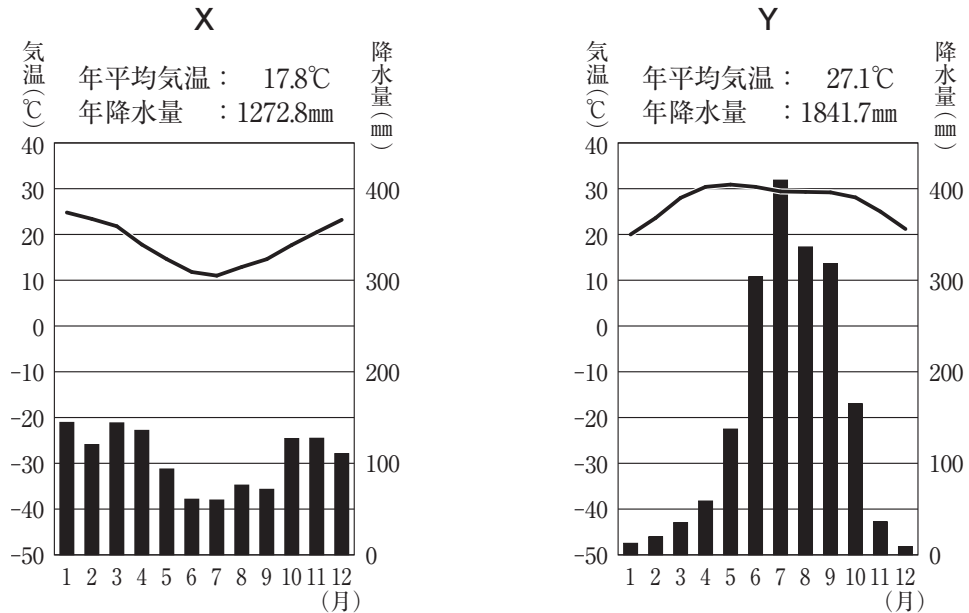
エ



【社会的事象についての知識・理解】①

- (2) なおやくんは、【地図1】のXとYの都市の気温と降水量について、次の【資料1】を集めました。【資料1】から考えられることをまとめたものとして最も適切なものを、下のア～エの中から1つ選び、記号で答えなさい。

【資料1】



- ア Xの都市は、北半球に位置しているため、7月に最も気温が高くなっている。Yの都市は、^{へんせいふう}偏西風の^{えいきょう}影響で、7月の降水量が最も多くなっている。
- イ Xの都市は、南半球に位置しているため、1月に最も気温が低くなっている。Yの都市は、季節風の^{えいきょう}影響で、1月の降水量が最も多くなっている。
- ウ Xの都市は、南半球に位置しているため、7月に最も気温が低くなっている。Yの都市は、季節風の^{えいきょう}影響で、7月の降水量が最も多くなっている。
- エ Xの都市は、北半球に位置しているため、1月に最も気温が高くなっている。Yの都市は、^{へんせいふう}偏西風の^{えいきょう}影響で、1月の降水量が最も多くなっている。

【社会的な思考・判断・表現】②

- (3) なおやくんは、【地図1】をもとに、ユーラシア大陸、アフリカ大陸、北アメリカ大陸、南アメリカ大陸、オーストラリア大陸について、大陸別の気候帯の面積の割合を調べ、次の【表1】にまとめました。アフリカ大陸に当てはまるものとして最も適切なものを、【表1】のア～エの中から1つ選び、記号で答えなさい。

【表1】大陸別の気候帯の面積の割合

気候帯 \ 大陸	ア	イ	ウ	エ	オーストラリア大陸
熱帯	38.6%	7.4%	63.4%	5.2%	16.9%
かんぞう 乾燥帯	46.7%	26.1%	14.0%	14.4%	57.2%
温帯	14.7%	17.5%	21.0%	13.5%	25.9%
冷帯	—	39.2%	—	43.4%	—
寒帯	—	9.8%	1.6%	23.5%	—

【資料活用 of 技能】③

- (4) なおやくんは、【地図2】について、E～Hに当てはまる宗教を考えました。【地図2】のE～Hと当てはまる宗教との組み合わせとして最も適切なものを、次のア～エの中から1つ選び、記号で答えなさい。

ア	E－イスラム教	F－キリスト教	G－仏教	H－ヒन्दゥー教
イ	E－イスラム教	F－キリスト教	G－ヒन्दゥー教	H－仏教
ウ	E－キリスト教	F－イスラム教	G－ヒन्दゥー教	H－仏教
エ	E－キリスト教	F－イスラム教	G－仏教	H－ヒन्दゥー教

【社会的事象についての知識・理解】④

- (5) なおやくんは、世界の主な言語について調べ、次の【表2】にまとめました。【表2】から考えられることとして最も適切なものを、下のア～エの中から1つ選び、記号で答えなさい。

【表2】世界の主な言語別人口と主な使用地域

言語名	人口（百万人）	主な使用地域
中国語	1284	中国
スペイン語	437	スペイン，中南アメリカ
英語	372	イギリス，北アメリカ
ヒンディー語	260	インド
ポルトガル語	219	ポルトガル，ブラジル

- ア スペイン語，英語，ポルトガル語の言語別人口は，それぞれスペイン，イギリス，ポルトガルの人口とほぼ同じで，国内では他の言語が使用されている。
- イ スペイン語，英語，ポルトガル語の言語別人口は，それぞれスペイン，イギリス，ポルトガルの人口よりも多く，植民地時代の影響から中南アメリカ，北アメリカでも使用されている。
- ウ 中国語とヒンディー語の言語別人口は，それぞれ中国とインドの人口よりも多く，植民地時代の影響から他国でも使用されている。
- エ 中国語とヒンディー語の言語別人口は，それぞれ中国とインドの人口とほぼ同じで，国内では主に1つの言語が使用されている。

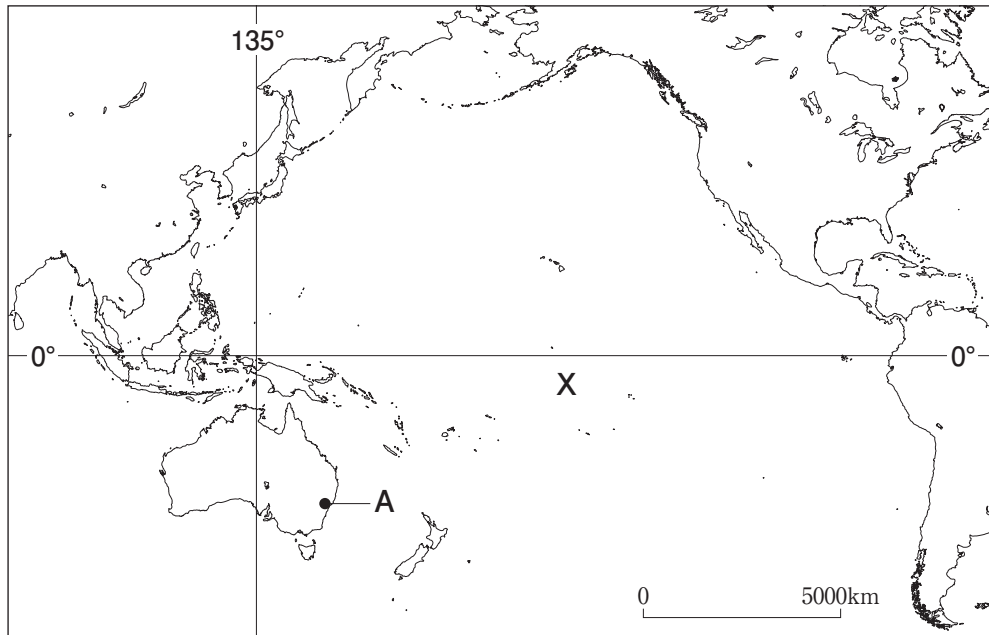
【社会的な思考・判断・表現】⑤

問題は次のページに続きます。

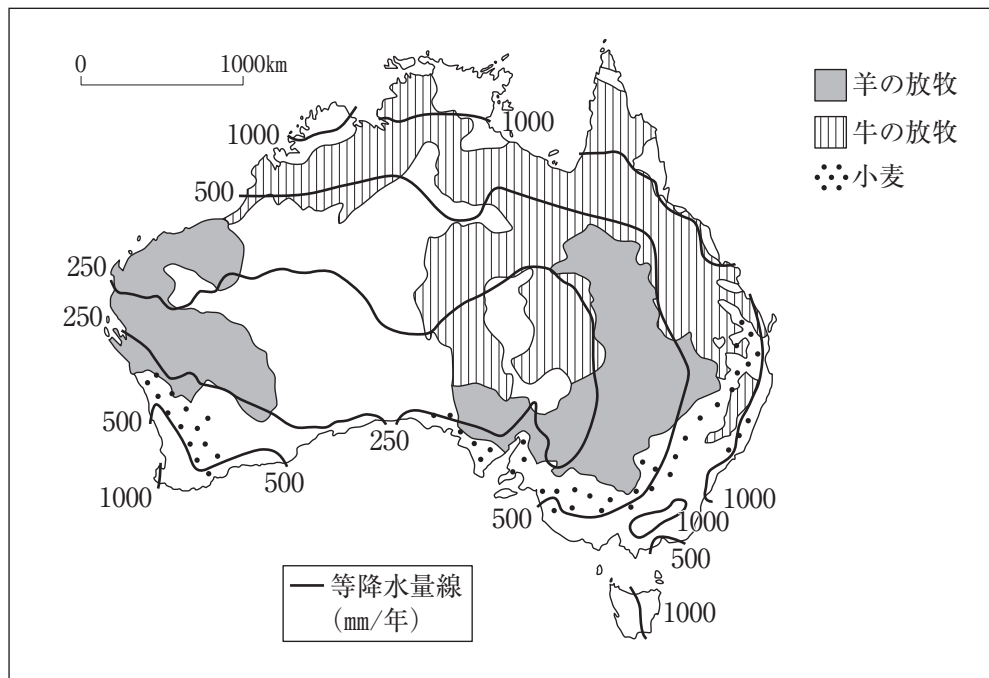
2

みほさんの学級では、次の【地図1】と下の【地図2】をもとに、オセアニア州についての学習をしています。オセアニア州について、あとの(1)~(5)の各問題に答えなさい。

【地図1】



【地図2】 オーストラリアの主な農業と降水量



- (1) 【地図1】のXの海洋の名称^{めいしょう}として最も適切なものを、次のア～エの中から1つ選び、記号で答えなさい。

- ア 大西洋
- イ 地中海
- ウ 太平洋
- エ インド洋

【社会的事象についての知識・理解】⑥

- (2) 【地図1】のAの都市の緯度^{いど}と経度を表したものとして最も適切なものを、次のア～エの中から1つ選び、記号で答えなさい。

- ア 南緯33度 東経119度
- イ 南緯33度 東経151度
- ウ 北緯33度 東経119度
- エ 北緯33度 東経151度

【資料活用の技能】⑦

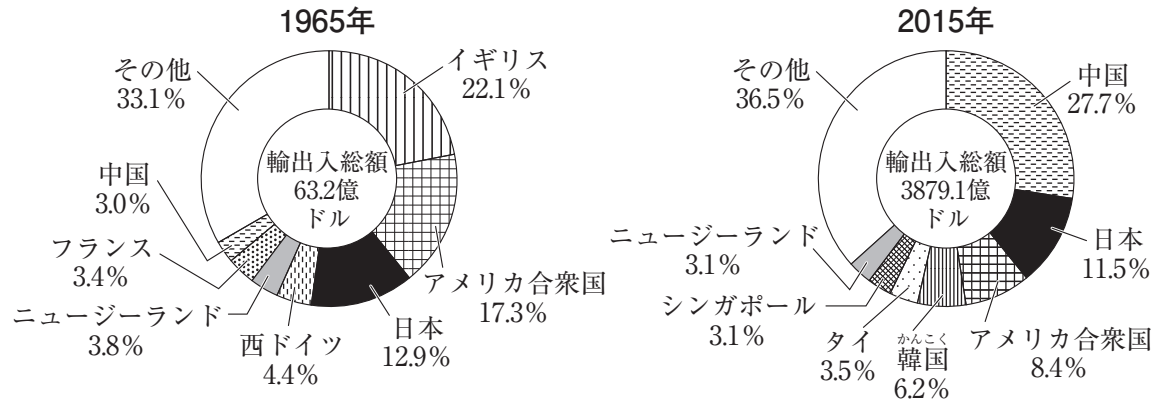
- (3) みほさんは、【地図2】から読み取れる内容をまとめました。オーストラリアの主な農業と降水量との関係についてまとめたものとして最も適切なものを、次のア～エの中から1つ選び、記号で答えなさい。

- ア 小麦の栽培^{さいばい}は、南東部と南西部の降水量250mm未満の地域で行われている。
- イ 小麦の栽培は、北東部と北西部の降水量500mmの地域付近で行われている。
- ウ 牛の放牧は、主に降水量500mm未満の地域で行われているが、羊の放牧は、降水量250mm未満の地域や、1000mm以上の地域でも行われている。
- エ 羊の放牧は、主に降水量500mm未満の地域で行われているが、牛の放牧は、降水量250mm未満の地域や、1000mm以上の地域でも行われている。

【資料活用の技能】⑧

- (4) みほさんは、オーストラリアの貿易について調べ、次の【資料1】をもとに、1965年と2015年とを比較して考えられることをまとめました。みほさんがまとめた文章として最も適切なものを、下のア～エの中から1つ選び、記号で答えなさい。

【資料1】 オーストラリアの貿易相手国の変化



- ア オーストラリアの輸出入総額の割合は、1965年にはヨーロッパ州の国がおよそ30%を占めていたが、2015年にはアジア州の国が50%以上を占めている。このことから、ヨーロッパ州よりも距離が近いアジア州の国と貿易を行うようになったと考えられる。
- イ オーストラリアの輸出入総額の割合は、1965年にはアジア州の国が15%以上を占めていたが、2015年にはヨーロッパ州の国が15%以上を占めている。このことから、アジア州よりも距離が近いヨーロッパ州の国と貿易を行うようになったと考えられる。
- ウ オーストラリアの輸出入総額は、2015年には1965年のおよそ60倍になり、アメリカ合衆国の輸出入総額は1965年に比べて2015年は減少している。このことから、経済の成長が進んだアジア州の国との貿易によって、アメリカ合衆国の輸出入総額が減少したと考えられる。
- エ オーストラリアの輸出入総額は、2015年には1965年のおよそ60倍になり、日本の輸出入総額は1965年に比べて2015年は減少している。このことから、経済の成長が進んだヨーロッパ州の国との貿易によって、日本の輸出入総額が減少したと考えられる。

【社会的な思考・判断・表現】⑨

(5) あなたが「日本とオセアニア州との関係」をテーマに追究する場合、どのようなことを調べますか。次のア～エの中には、適切なものがいくつかありますが、あなたの考えに最も近いものを1つ選び、記号で答えなさい。

ア 日本とオセアニア州の国々との間で貿易されている品物について調べたい。

イ 日本とオセアニア州を行き来している航空機のエンジンの仕組みを調べたい。

ウ 日本に住むオセアニア州出身者はどのくらいいるのか調べたい。

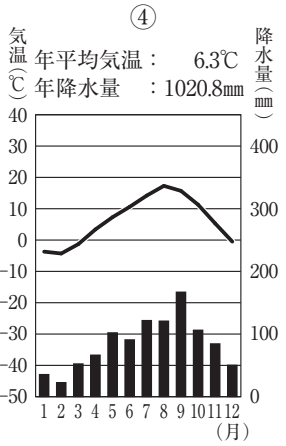
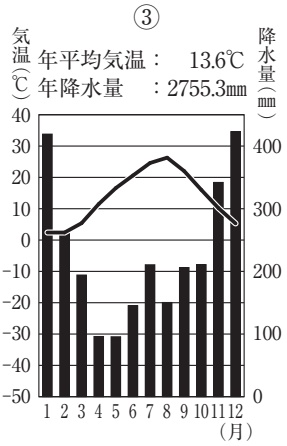
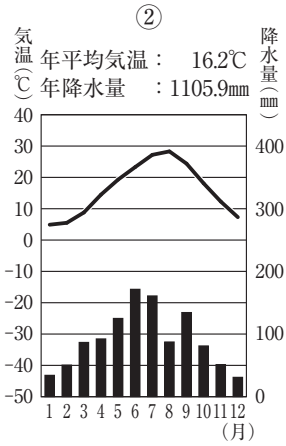
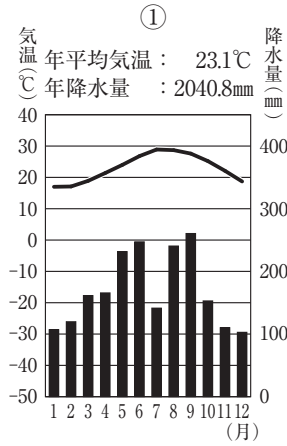
エ オセアニア州ではどのような日本文化が広まっているのか調べたい。

【社会的事象への関心・意欲・態度】⑩

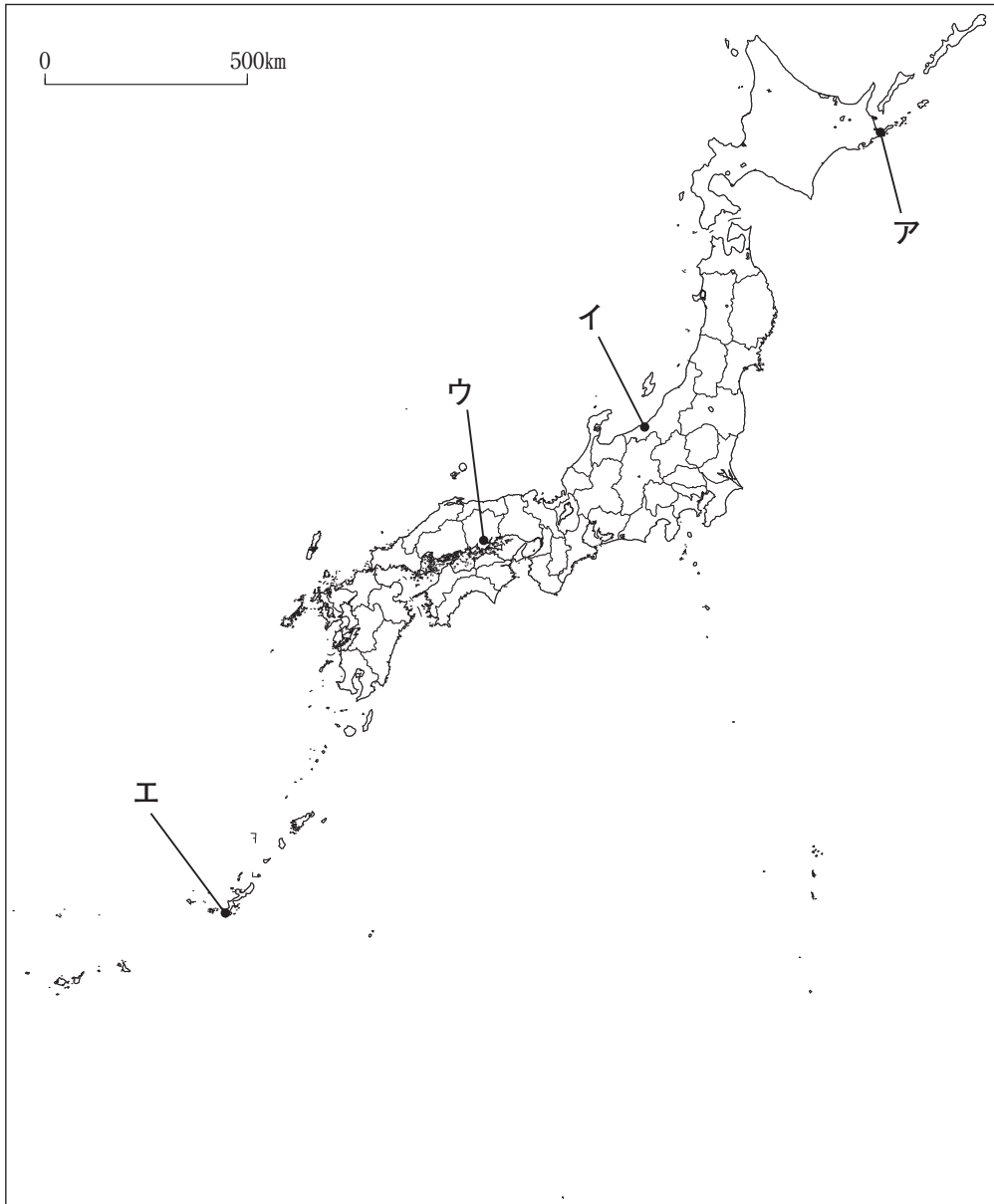
3

ともたかくんの学級では、日本各地の気候の特色について調べる学習を行いました。次の【資料1】の気温と降水量を示したグラフ①～④は、それぞれ下の【地図】のア～エのいずれかの都市のもので。あとの(1)～(4)の各問題に答えなさい。

【資料1】



【地図】



- (1) ともたかくんは、【資料1】を見て、このうちの1つの都市の気候の特色について次の文章のようにまとめました。この都市のグラフとして最も適切なものを、【資料1】の①～④の中から1つ選び、記号で答えなさい。

グラフを見ると、最も気温が高い月は30℃近くになり、最も気温が低い月は5℃近くになる。降水量が50mmを下回る月がある。

【資料活用の技能】⑪

- (2) ともたかくんは、【地図】のある都市の気候について調べ、ある都市に関する次の【写真】と次の【説明文】を見付けました。【写真】と【説明文】に当てはまる都市として最も適切なものを、【地図】のア～エの中から1つ選び、記号で答えなさい。

【写真】



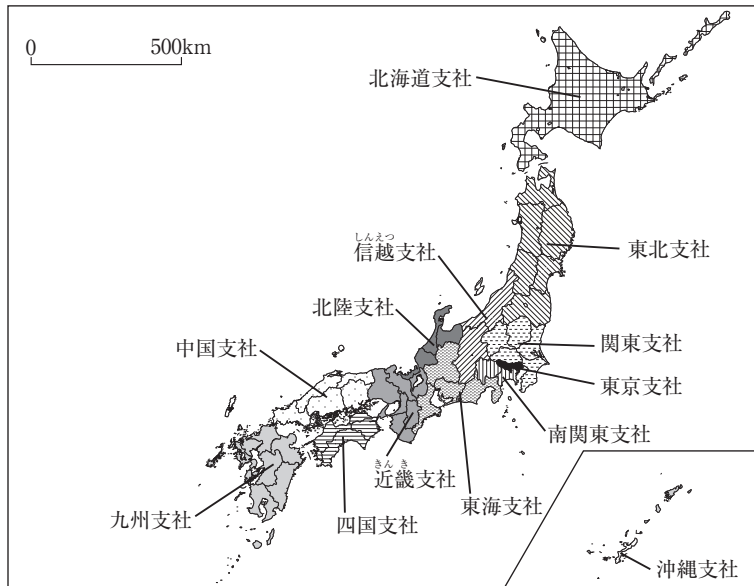
【説明文】

この都市がある地域は、冬になると北西の季節風の^{えいきょう}影響で雪が多く降ります。屋根などに積もった雪の重さで建物が^{かたむ}傾いたり、^{たお}倒れたりしないように、左の写真のように、雪下ろしを行います。

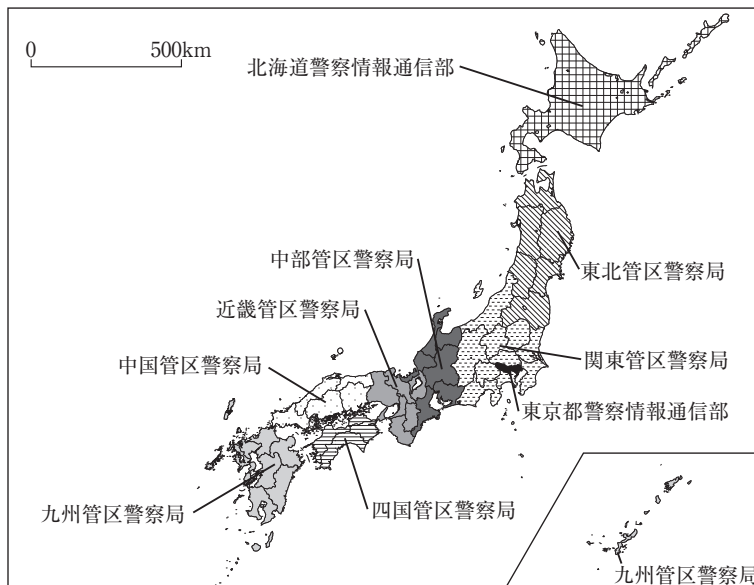
【資料活用の技能】⑫

- (3) まりこさんは、さらに日本の地域区分について調べ、目的によって、様々な地域区分があることが分かりました。次の【資料2】と下の【資料3】をもとに分かることとして最も適切なものを、下のア～エの中から1つ選び、記号で答えなさい。

【資料2】 A社の地域区分



【資料3】 警察庁の地域区分



- ア ^{やまなし}山梨県は、A社の地域区分では南関東支社に、警察庁の地域区分では関東管区警察局に^{ふく}含まれる。
- イ ^{とやま}富山県は、A社の地域区分では東海支社に、警察庁の地域区分では中部管区警察局に含まれる。
- ウ ^{みえ}三重県は、A社の地域区分では東海支社に、警察庁の地域区分では関東管区警察局に含まれる。
- エ ^{ぐんま}群馬県は、A社の地域区分では信越支社に、警察庁の地域区分では関東管区警察局に含まれる。

- (4) まりこさんは、都道府県名とその都道府県庁所在地名について調べ、次の【表】にまとめています。【表】の①～③に当てはまるものの組み合わせとして最も適切なものを、下のア～エの中から1つ選び、記号で答えなさい。

【表】




県名	県庁所在地名
山梨県	①
三重県	②
群馬県	③

	①	②	③
ア	<small>こうふ</small> 甲府市	<small>おおつ</small> 大津市	<small>たかさき</small> 高崎市
イ	<small>こうしゅう</small> 甲州市	<small>つ</small> 津市	高崎市
ウ	甲府市	津市	前橋市
エ	甲州市	大津市	前橋市

【社会的事象についての知識・理解】 ⑭

- 4 さえさんは、「古代までの日本」をテーマに次の【年表】を作成しました。【年表】をもとに、あとの(1)～(4)の各問題に答えなさい。

【年表】

時代	西暦(年)	主なできごと	政治の様子	代表的な文化財
弥生	57	倭の奴国の王が後漢に使いを送る	稲作が広まるとムラ(集落)とムラとの間に土地や水の利用をめぐって争いが起きるようになり、やがて周辺のムラをまとめる有力なクニ(国)が現れる	
	239	卑弥呼が魏に使いを送る		
古墳		有力な豪族の勢力の大和朝廷(大和政権)が、中国の皇帝に使いを送る	各地の豪族が大和朝廷(大和政権)に従うようになる	
	593	聖徳太子(厩戸皇子)が摂政となる	聖徳太子(厩戸皇子)や中大兄皇子らによって国家の仕組みが整えられ、大王(天皇)中心の政治を目指す	
飛鳥	630	第1回 A を送る		
	672	壬申の乱が起きる		
奈良	710	平城京に都をうつす	B	
	743	墾田永年私財法を定める		
	754	鑑真が中国から来日する		
平安	794	平安京に都をうつす		C
	894	菅原道真の意見により A を停止する		
	1016	藤原道長が摂政になる		

- (1) 【年表】の **A** に当てはまる、飛鳥時代から平安時代にかけて、進んだ制度や文化を取り入れようとして、中国へ送られた使節の名称を答えなさい。

【社会的事象についての知識・理解】 ⑮

- (2) 【年表】の **B** に当てはまる、この時代の政治の様子を説明した文として最も適切なものを、次のア～エの中から1つ選び、記号で答えなさい。

ア 天皇の母方の祖父である貴族が、孫である天皇に替わって摂関政治を行う

イ 天皇を頂点とした全国を支配する仕組みをつくるために、唐を手本にして大宝律令をつくる


ウ 天皇が独裁的な政治を行っていた豪族を倒し、留学生などの協力を得ながら大化の改新を行う

エ 天皇が仏教の力で国家を守ろうとして、国ごとに寺を、都には大きな仏像をつくらせる

【社会的な思考・判断・表現】 ⑯

- (3) 【年表】の【C】に当てはまる、代表的な文化財とその時代の文化の説明として最も適切なものを、次のア～エの中から1つ選び、記号で答えなさい。


ア



中国や朝鮮^{ちようせん}、インド、ギリシャの影響^{えいきやう}がみられる、わが国最初の仏教文化である。

他にこの時代を代表する文化財として「法隆寺^{ほくりゆうじ}の玉虫厨子^{たまむしのすし}」や「広隆寺^{こうりゆうじ}の弥勒菩薩像^{みろくぼさつぞう}」がある。


イ



武士の気風に合った、素朴^{そぼく}で力強く分かりやすい文化である。

他にこの時代を代表する文化財として『平家物語』や『徒然草^{つれづれぐさ}』がある。


ウ



唐風^{とうふう}の文化をもとに、貴族生活を背景とした、日本の自然や風土、生活に合った文化である。

他にこの時代を代表する文化財として『源氏物語』や『枕草子^{まくらのそうし}』がある。

エ



中国や西アジアなどの影響を受けた国際色豊かな文化である。

写真の楽器など、シルクロードを通して中国、さらに日本に伝わった品が「正倉院」に所蔵されている。

【資料活用の技能】 ⑰

(4) あなたが「古代までの日本」について調べる場合、何についてどのような方法で調べようと思いますか。次のア～エの中には適切なものがいくつかありますが、あなたの考えに最も近いものを1つ選び、記号で答えなさい。

ア 奈良や京都にある寺院や仏像が保存されてきた経緯^{けいゐ}について、各寺院のホームページを使って調べる。

イ 奈良や京都における古代と中世の文化の^{ちが}違いについて、資料集や図書館の本を使って調べる。

ウ 奈良時代や平安時代の貴族の食べ物や衣装^{いしょう}について、博物館に行って調べる。

エ 奈良や京都へ行くために乗る列車について、時刻表を使って調べる。

【社会的事象への関心・意欲・態度】⑱

- 5 かずたかくんは、次の【年表】をもとに、この時代に活躍した人物の主な業績について、下の【カード】①～④にまとめました。あとの(1)～(4)の各問題に答えなさい。

【年表】

西暦(年)	一一五六	一一五九	一一八五	一二二一	一二三二	一二七四	一二八一	一二九七	一三九二	一四〇四	一四六七
主なできごと	平治の乱がおこる 保元の乱がおこる		(X)が設置される	承久の乱がおこる 御成敗式目が出される		文永の役 弘安の役		永仁の徳政令が出される	南朝と北朝が統一される 日明貿易が始まる 応仁の乱がおこる		
主な業績	A		B		C		D				

【カード】 活躍した人物の主な業績

①

8代執権となり、2度にわたる元軍の襲来を退けた。

②

後醍醐天皇と協力して幕府を倒し、その後、征夷大将軍に任命された。

③

鎌倉に幕府を開いて、武家政権を立てた。

④

武士で初めて太政大臣となり、兵庫の港を整備し、宋との貿易を進めた。

- (1) 【年表】のA～Dには、【カード】①～④がそれぞれ当てはまります。【年表】のA～Dと【カード】との組み合わせとして最も適切なものを、次のア～エの中から1つ選び、記号で答えなさい。

ア	A - ①	B - ②	C - ③	D - ④
イ	A - ④	B - ③	C - ②	D - ①
ウ	A - ④	B - ②	C - ①	D - ③
エ	A - ④	B - ③	C - ①	D - ②

【社会的事象についての知識・理解】⑱

- (2) 次の文は、【年表】の(X)に当てはまる役職について説明したものです。(X)に当てはまる語句として最も適切なものを、下のア～エの中から1つ選び、記号で答えなさい。


国ごとにおかれ、軍事・警察や御家人ごけにんの統率とうそつを行う役職。

- ア 守護
- イ 奉公ほうこう
- ウ 老中
- エ 国司

【社会的事象についての知識・理解】⑳

- (3) かずたかくんが、【年表】と次の【資料1】をもとにして、日明貿易について調べ、文章にまとめたものとして最も適切なものを、下のア～エの中から1つ選び、記号で答えなさい。

【資料1】



- ア 西日本の武士や商人などから朝鮮半島や中国の大陸沿岸を荒らす者が現われ、元寇と呼ばれた。明は、正式な貿易船に勘合を持たせ、日本の原簿と照合させて元寇と区別し取り締まりを行った。
- イ 西日本の武士や商人などから朝鮮半島や中国の大陸沿岸を荒らす者が現われ、倭寇と呼ばれた。室町幕府は、正式な貿易船に勘合を持たせ、明の原簿と照合させて倭寇と区別し取り締まりを行った。
- ウ 朝鮮半島や中国の大陸の人々から西日本の大陸沿岸を荒らす者が現われ、元寇と呼ばれた。室町幕府は、正式な貿易船に勘合を持たせ、明の原簿と照合させて元寇と区別し取り締まりを行った。
- エ 西日本の武士や商人などから朝鮮半島や中国の大陸沿岸を荒らす者が現われ、倭寇と呼ばれた。室町幕府は、商人に海外渡航を許可する朱印状を与えて、他国に対して朱印状を持つ船の保護を依頼した。

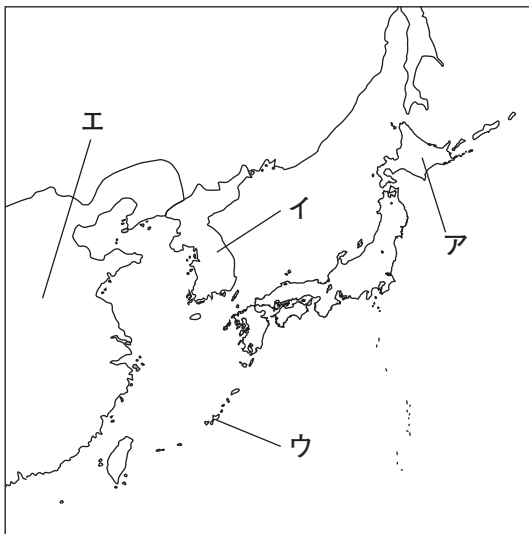
【社会的な思考・判断・表現】②

- (4) かずたかくんは、東アジアとの交流について興味をもち、次の【資料2】を見付けました。【資料2】の地域として最も適切なものを、下の【地図】のア～エの中から1つ選び、記号で答えなさい。

【資料2】

この地域は、15世紀初めに^{しょうし}尚氏によって統一され、^{なか つぎ}中継貿易によって発展し、
中国の^{えいきょう}影響を受けた文化が広まった。

【地図】 15世紀の東アジア

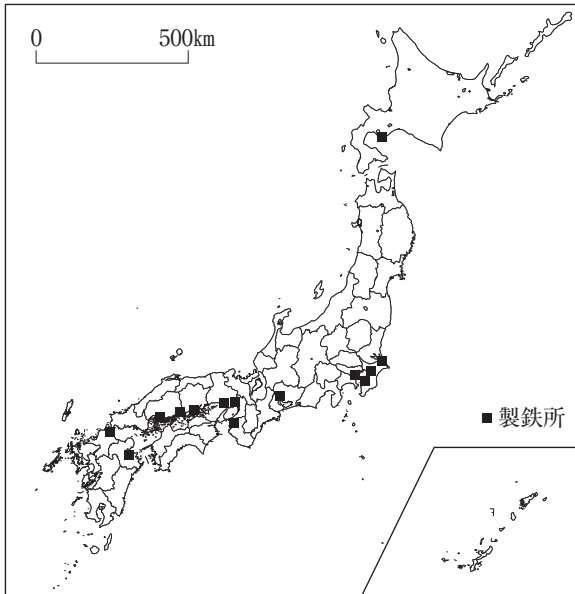


【資料活用の技能】 ②

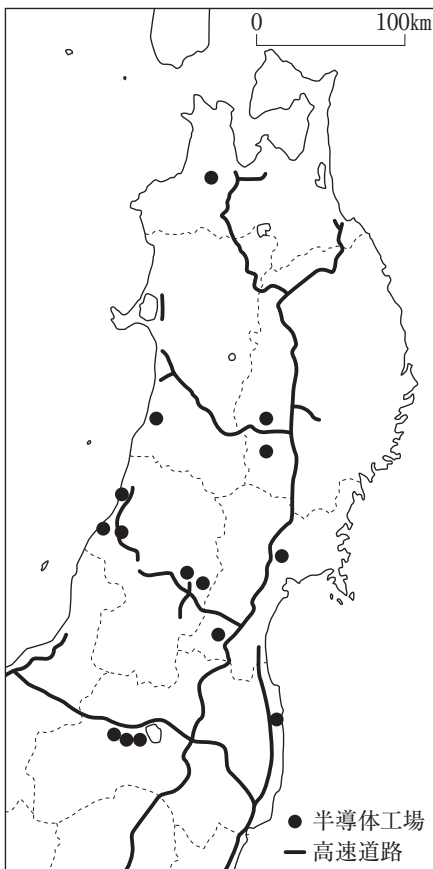
6

さえさんの学級では、日本の工場の分布について、次の【資料1】～【資料3】を集めました。あとの(1)～(3)の各問題に答えなさい。

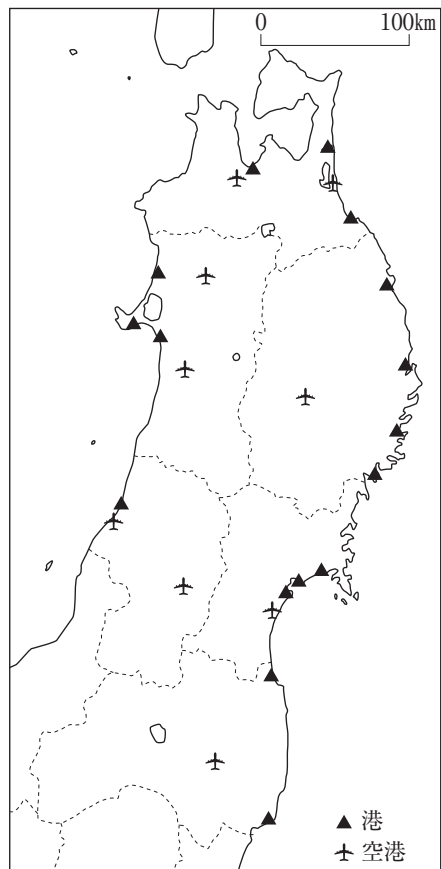
【資料1】日本の主な製鉄所



【資料2】東北地方の主な半導体工場と高速道路



【資料3】東北地方の主な港と空港



- (1) さえさんが、【資料1】から読み取れることをまとめたものとして最も適切なものを、次のア～エの中から1つ選び、記号で答えなさい。

- ア 製鉄所は、主に日本海や瀬戸内海せとないかいに面した臨海部に分布している。
イ 製鉄所は、主に太平洋や瀬戸内海に面した臨海部に分布している。
ウ 製鉄所は、主に太平洋側の内陸部に分布している。
エ 製鉄所は、主に日本海側の内陸部に分布している。

【必要な情報を正確に取り出す力】⑳

- (2) さえさんが、【資料2】と【資料3】から読み取れることをまとめたものとして最も適切なものを、次のア～エの中から1つ選び、記号で答えなさい。

- ア 東北地方の主な半導体工場は、主に内陸部の高速道路に近く、港から離れた地域はなに分布している。
イ 東北地方の主な半導体工場は、主に臨海部の高速道路に近く、港に近い地域に分布している。
ウ 東北地方の主な半導体工場は、主に内陸部の高速道路に近く、港に近い地域にも分布している。
エ 東北地方の主な半導体工場は、主に臨海部の高速道路に近く、港から離れた地域に分布している。

【比較・関連付けて読み取る力】㉑

- (3) さえさんが【資料1】～【資料3】をもとに、日本の工場の分布とその背景について考えたこととして最も適切なものを、次のア～エの中から1つ選び、記号で答えなさい。

ア 国産の原材料を使用している製鉄所は、臨海部に立地することが多く、製品に最新の情報が必要な半導体工場は、高速道路や空港の周辺に立地することが多い。このことから、工場の分布は、情報の新しさや情報の内容と関係していると考えられる。

イ 国産の原材料を使用している製鉄所は、内陸部に立地することが多く、製品が小型で運びやすい半導体工場は、臨海部や空港の周辺に立地することが多い。このことから、工場の分布は、原材料や製品の輸送と関係していると考えられる。

ウ 原材料を海外から輸入している製鉄所は、臨海部に立地することが多く、製品が小型で運びやすい半導体工場は、高速道路や空港の周辺に立地することが多い。このことから、工場の分布は、原材料や製品の輸送と関係していると考えられる。

エ 原材料を海外から輸入している製鉄所は、内陸部に立地することが多く、製品が小型で運びやすい半導体工場は、高速道路の周辺に立地することが多い。このことから、工場の分布は、製品の消費地との距離きょりと関係していると考えられる。

【意図や背景，理由を理解・解釈・推論して解決する力】②⑤

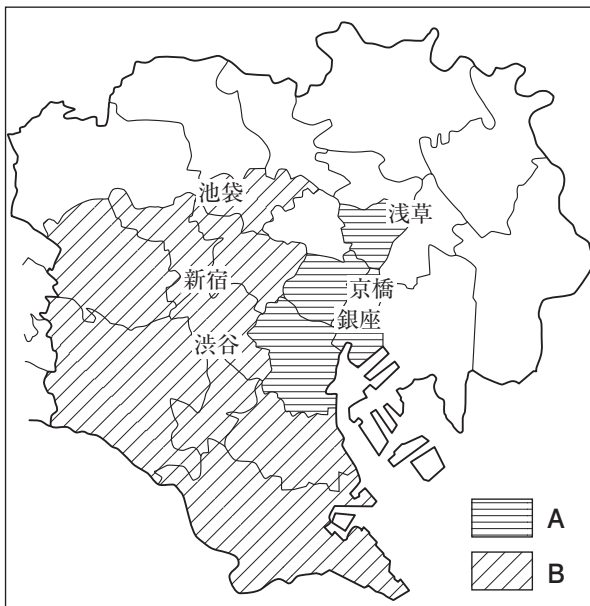
問題は次のページに続きます。

- 7 だいすけくんは、1900年代前半の東京の主な百貨店について調べ、次の【資料1】～【資料3】にまとめました。あとの(1)～(3)の各問題に答えなさい。

【資料1】1900年代前半の東京の主な百貨店の開店時期

西暦 (年)	開店した百貨店
1916	京橋に高島屋東京店が開店
1924	銀座に松坂屋銀座店が開店
1925	銀座に松屋銀座店が開店
1926	新宿にほてい屋が開店
1930	銀座に三越銀座店が開店
1930	新宿に三越新宿店が開店
1931	浅草に松屋浅草店が開店
1933	新宿に伊勢丹が開店
1934	渋谷に東横百貨店が開店
1935	池袋に京浜デパート池袋店が開店

【資料2】1930年代の東京の主な地名



【資料3】東京の人口の変化 (人)

地域	大正9年 (1920年)	大正14年 (1925年)	増減数
区部全体	3,358,186	4,109,113	750,927
【資料2】 Bの地域	846,543	1,414,920	568,377
その他	1,254,549	1,558,625	304,076

- (1) だいすけくんは、【資料1】から分かったことをまとめました。【資料1】から読み取ってまとめたものとして最も適切なものを、次のア～エの中から1つ選び、記号で答えなさい。

- ア 1925年以降に、新宿に百貨店が開店している。
- イ 1925年以前に、渋谷に百貨店が開店している。
- ウ 1925年以降に、京橋に百貨店が開店している。
- エ 1925年以前に、浅草に百貨店が開店している。

【必要な情報を正確に取り出す力】 ㉔

- (2) だいすけくんは、【資料1】と【資料2】をもとに、東京の主な百貨店の開店時期と位置との関わりについてまとめました。【資料1】と【資料2】から読み取ってまとめたものとして最も適切なものを、次のア～エの中から1つ選び、記号で書きなさい。

- ア 1925年以前は、池袋、新宿、渋谷といったAの地域に開店し、1925年以降は、京橋や銀座といったBの地域に開店した。
- イ 1925年以前は、京橋や銀座といったBの地域に開店し、1925年以降は、池袋、新宿、渋谷といったAの地域に開店した。
- ウ 1925年以前は、池袋、新宿、渋谷といったBの地域に開店し、1925年以降は、京橋や銀座といったAの地域に開店した。
- エ 1925年以前は、京橋や銀座といったAの地域に開店し、1925年以降は、池袋、新宿、渋谷といったBの地域に開店した。

【比較・関連付けて読み取る力】 ㉕

- (3) だいすけくんは、【資料1】～【資料3】をもとに、東京の主な百貨店が開店した場所と人口の変化との関わりについてまとめました。【資料1】～【資料3】をもとにまとめたものとして最も適切なものを、次のア～エの中から1つ選び、記号で書きなさい。

ア 百貨店が開店する場所がAの地域からBの地域に変化した。この理由は、1920年から1925年にかけて、Bの地域の人口が増加した割合が、区部全体の人口が増加した割合よりも小さいことと関係していると考えられる。

イ 百貨店が開店する場所がAの地域からBの地域に変化した。この理由は、1920年から1925年にかけて、Bの地域の人口が増加した割合が、区部全体の人口が増加した割合よりも大きいことと関係していると考えられる。

ウ 百貨店が開店する場所がBの地域からAの地域に変化した。この理由は、1920年から1925年にかけて、Bの地域の人口が増加した割合が、区部全体の人口が増加した割合よりも小さいことと関係していると考えられる。

エ 百貨店が開店する場所がBの地域からAの地域に変化した。この理由は、1920年から1925年にかけて、Bの地域の人口が増加した割合が、区部全体の人口が増加した割合よりも大きいことと関係していると考えられる。

【意図や背景，理由を理解・解釈・推論して解決する力】⑳



古紙配合率70%再生紙を使用しています